

Jak vzniká mapa



Regionální muzeum v Litomyšli

pracovní list

Peutingerova mapa

1) Jak jsou vyobrazena tři nejvýznamnější města říše – Řím, Konstantinopol a Antiochie – sídla synů císaře Konstantina Velikého?
.....

2) Kolik světadílů mapa zachycuje? Vyjmenuj je.
.....



Martin Kabátník

3) K jakému moravskému hradu přirovnává Kabátník hrad v Antiochii?

4) Co popisuje v Damašku?

Müllerova mapa Čech

5) Změř délku chodby muzea od pultové vitríny na konci chodby k druhým (!) proskleným dveřím. Použij měřicí kolo, jeho obvod je jeden metr –

6) Zjisti pomocí buzoly, jak je orientovaná chodba muzea –

7) Najdi následující místa na Müllerově mapě a zapiš číslo listu (je vždy v levém horním rohu), na kterém se nachází:

Praha (Prag) –

Hradec Králové (Königingratz) –

Litomyšl (Leutomischl) –

Německé vesnice

8) Zapiš německé názvy těchto okolních vesnic:

Čistá (Litrbachy) –

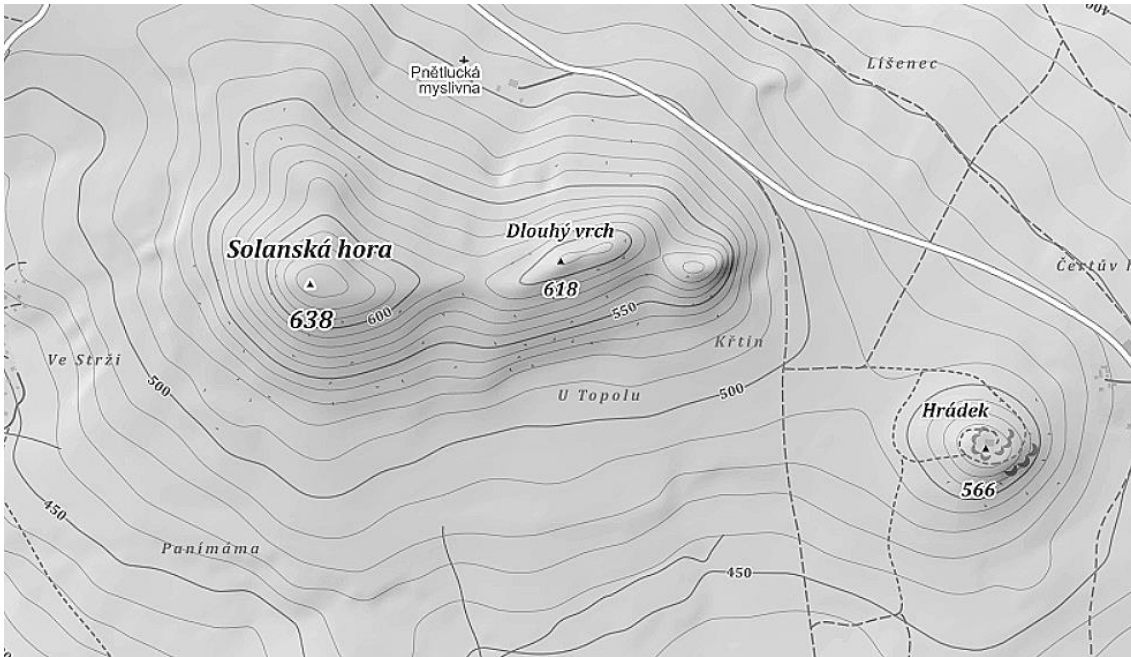
Chmelík –

Strakov –




Výškopis

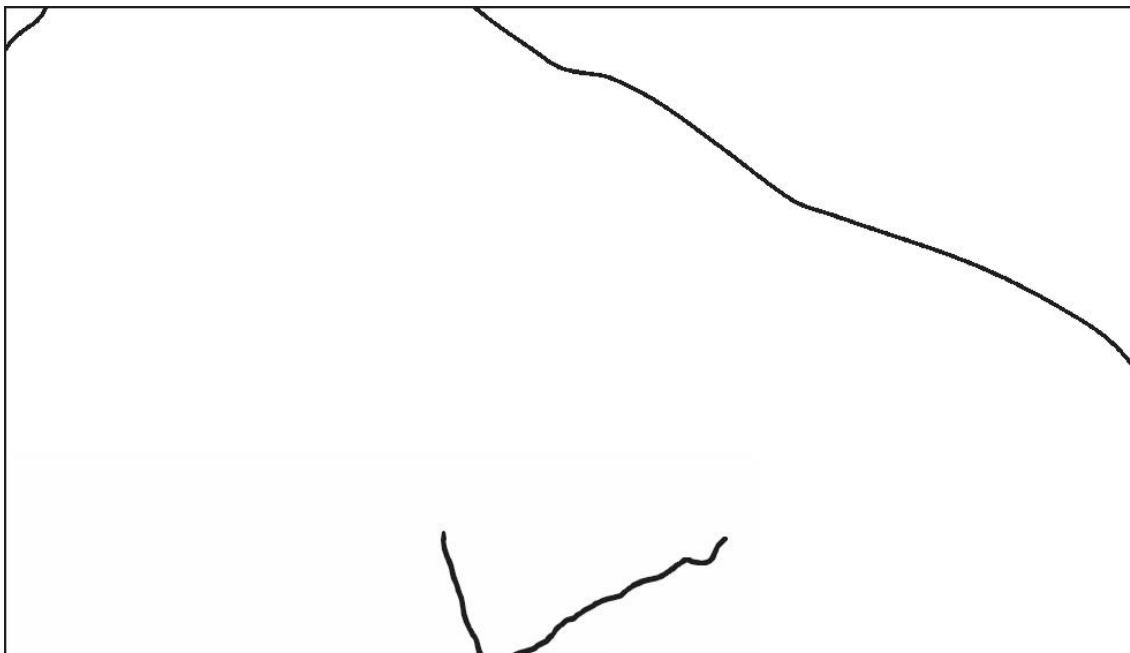
9) Překresli moderní mapu nahoře s pomocí „kopečkové metody“ a šraf (spádnice)



vrstevnice
stínování



kopečková
metoda



spádnice